



CENTRO UNIVERSITÁRIO UNIVATES

PROCESSO SELETIVO PARA FUNCIONÁRIO TÉCNICO-ADMINISTRATIVO EDITAL 01/2012

CADERNO DE QUESTÕES

1. ORGANIZAÇÃO DA PROVA

Esta prova constitui-se de 19 questões, sendo uma dissertativa, valendo 20% da prova, e 18 questões objetivas, valendo 80% da prova.

2. DURAÇÃO DA PROVA

O tempo de duração da prova é de até três horas.

3. INSTRUÇÕES GERAIS

- É proibido o uso de qualquer material de consulta;
- Cabe a cada candidato(a) verificar se o Caderno de Questões contém 8 páginas e 19 questões;
- As questões objetivas contam com cinco alternativas, dentre as quais somente uma deve ser assinalada;
- As questões dissertativas devem ser respondidas de acordo com o que se solicita em cada uma. Será avaliada a correção linguística de acordo com o padrão culto da língua escrita;
- Depois de respondidas todas as questões, as respostas devem ser transcritas, com caneta azul ou preta, para a Folha de Respostas, a qual deverá ser solicitada aos fiscais;
- Verificar se seu nome está grafado corretamente na Folha de Respostas e assiná-la;
- Verificar se o código e a área que constam na Folha de Resposta da Questão Dissertativa são os informados na Folha de Resposta das Questões Objetivas. Para preservar o anonimato, o nome do(a) candidato(a) não é mencionado na Folha de Resposta da Questão Dissertativa; **portanto, esta não deve ser assinada;**
- No final, a Folha de Respostas deve ser entregue ao fiscal, e o Caderno de Questões poderá ser levado pelo(a) candidato(a).

MATEMÁTICA

1) Sobre os 55 técnicos e auxiliares que trabalham em um laboratório é verdade que:

- I) 60% dos técnicos são casados.
- II) 40% dos auxiliares não são casados.
- III) O número de técnicos não casados é 12.

Nessas condições, o total de:

- a) auxiliares casados é 10.
- b) pessoas não casadas é 30.
- c) auxiliares é 25.
- d) técnicos e casados é 20.
- e) técnicos é 35.

2) Considere que, do custo de produção de determinado produto, uma empresa gasta 25% com mão de obra e 75% com matéria-prima. Se o gasto com a mão de obra subir 10% e o de matéria-prima baixar 6%, o novo custo do produto:

- a) baixará 2%.
- b) aumentará 3,2%.
- c) baixará 1,8%.
- d) aumentará 1,2%.
- e) baixará 4%.

3) Três funcionários - Antônio, Nestor e Carlos - estão lotados no setor de Recursos Humanos de uma Empresa. Um deles é responsável pela folha de pagamento; outro, pelos registros funcionais da Empresa, e o terceiro, pelos concursos e treinamentos de funcionários. Sabe-se que:

- esses funcionários localizam-se nas salas 1, 2 e 3;
- Antônio não está na sala 3, nem é responsável pelos registros funcionais;
- Carlos é responsável pelos concursos e treinamentos de funcionários;
- o funcionário que está na sala 1 é responsável pelos registros funcionais.

Com base nessas informações, é correto afirmar que o funcionário que está localizado na sala 1 e o funcionário que é responsável pela folha de pagamento são, respectivamente:

- a) Antônio e Nestor.
- b) Carlos e Nestor.
- c) Nestor e Carlos.
- d) Carlos e Antônio.
- e) Nestor e Antônio.

4) Carlos, ao chegar no atendimento ao aluno, tinha apenas uma nota de R\$ 10,00 para pagar um valor de R\$ 9,35. Se o atendente desse setor só dispõe de moedas de 25, 10 e 5 centavos, de quantas maneiras poderá ser dado o troco para Carlos?

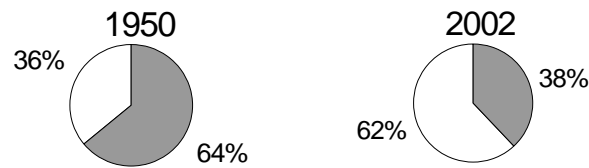
- a) 13 maneiras.
- b) 14 maneiras.
- c) 15 maneiras.
- d) 16 maneiras.
- e) 19 maneiras.

5) Uma pessoa comprou um microcomputador de valor x reais, pagando por ele 85% do seu valor. Tempos depois, vendeu-o com um lucro de 20% sobre o preço pago, e nas seguintes condições: 40% do total como entrada e o restante em 4 parcelas iguais de R\$ 306,00 cada. O número x é igual a:

- a) R\$ 2.200,00.
- b) R\$ 2.150,00.
- c) R\$ 2.100,00.
- d) R\$ 2.050,00.

e) R\$ 2.000,00.

6) Considere as informações a respeito dos estudantes do sexo feminino e do sexo masculino de uma Instituição de Ensino contidas nos gráficos abaixo.



A partir dessas informações podemos afirmar que:

- o percentual de estudantes do sexo masculino caiu cerca de 27% de 1940 até 2002.
- se continuar a proporção de decréscimo no percentual de estudantes do sexo masculino, em 2020, praticamente não haverá mais estudantes do sexo masculino nessa Instituição.
- o percentual de estudantes do sexo feminino dessa Instituição, em 1940, era aproximadamente duas vezes o que era em 2002.
- se a diferença entre os percentuais de estudantes do sexo feminino e masculino dessa Instituição varia linearmente no tempo, o equilíbrio entre tais percentuais de estudantes ocorreu na década de 1970.
- ambos os estudantes informados, do sexo feminino e masculino, evoluíram exponencialmente no tempo.

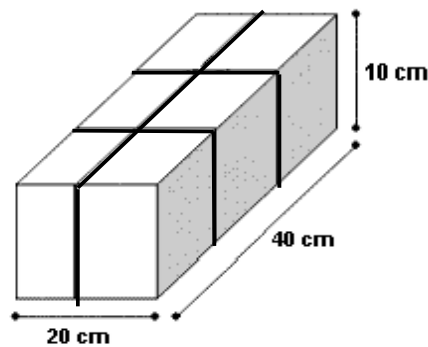
7) Um funcionário recebeu dois lotes de documentos para arquivar: um contendo 221 propostas de licitações e outro contendo 136 processos. Para executar tal tarefa, recebeu as seguintes orientações:

- Todas as propostas de licitações deverão ser colocadas em pastas amarelas e todos os processos em pastas verdes;
- Todas as pastas deverão conter o mesmo número de documentos;
- Deve ser usada a menor quantidade possível de pastas.

Se ele seguir todas as instruções que recebeu:

- usará 17 pastas amarelas para guardar todas as propostas de licitações.
- serão necessárias 21 pastas para acomodar todos os documentos dos dois lotes.
- o número de pastas amarelas que usar excederá o de verdes em seis unidades.
- cada uma das pastas ficará com oito documentos.
- usará 13 pastas verdes para guardar todos os processos.

8) A figura mostra um pacote em forma de um prisma retangular reto de dimensões 10 cm, 20 cm e 40 cm, fechado com uma fita adesiva sem sobreposições, conforme indica o desenho abaixo.



Seguindo o padrão que está representado pelas linhas escuras, qual a quantidade mínima de metros de fita adesiva necessária para fechar este pacote:

- a) 1,30 m.
- b) 1,60 m.
- c) 2,00 m.
- d) 2,20 m.
- e) 2,40 m.

9) Num determinado setor de uma empresa foram realizados exames para verificar o tipo sanguíneo de seus respectivos funcionários. O resultado apontou que:

- 43% têm sangue tipo O;
- 85% têm Rh positivo;
- 37% têm sangue tipo O com Rh positivo.

Nesse caso, a probabilidade de uma pessoa desse grupo, escolhida ao acaso, não ter sangue tipo O e não ter Rh positivo é de:

- a) 9%.
- b) 15%.
- c) 37%.
- d) 63%.
- e) 91%.

10) Uma empresa com 20 funcionários torna público os salários de seus funcionários, ocultando o salário de seu diretor, conforme o quadro a seguir.

Função	Salário	Número de funcionários
Auxiliar	R\$ 1.000,00	10
Secretária	R\$ 1.500,00	5
Consultor	R\$ 2.000,00	4
Diretor	*	1

A empresa promoveu um aumento salarial de 10% sobre os valores do quadro para todas as funções. Foi divulgado que a nova média salarial da empresa passou a ser de R\$1.952,50. Qual é o novo salário do diretor?

- a) R\$ 2.500,00.
- b) R\$ 4.500,00.
- c) R\$ 10.000,00.
- d) R\$ 11.000,00.
- e) R\$ 25.500,00.

LÍNGUA PORTUGUESA

Sinais Preocupantes

Editorial

Dados do Tesouro Nacional e do Ministério do Planejamento, divulgados em recente reportagem da revista *Veja*, demonstram que o primeiro ano do governo Dilma Rousseff registrou uma situação diversa da pretendida pela própria presidente em seu discurso de posse: queda nos investimentos públicos, incluindo os das estatais, e aumento dos _____ com a folha dos servidores e com a Previdência. A situação preocupa particularmente pelo fato de que os investimentos vinham se ampliando anualmente, tendência rompida com a redução no ano passado.

Verbas oficiais _____ uma importância fundamental na indução da atividade econômica, ainda mais em países como o Brasil, devido à forte presença do governo no mercado. A força dessas ações ficou mais evidente no auge da crise global. O país demorou a ser afetado e foi um dos primeiros a se livrar das consequências justamente por ter apostado no mercado interno e reforçado os investimentos. Ainda assim, tanto naquela época quanto agora, o setor público não se preocupou o suficiente em reduzir os gastos de custeio, dando margem _____ uma situação que tende a preocupar mais daqui para a frente.

No ano passado, tanto os investimentos do governo federal quanto os das estatais, incluindo a Petrobras, tiveram uma redução considerável em relação _____ 2010. No total, os recursos federais aplicados em infraestrutura e na capacidade produtiva caíram de R\$ 49,5 bilhões para R\$ 47,5 bilhões. No mesmo período, as despesas com funcionalismo cresceram de R\$ 175 bilhões para R\$ 179 bilhões, ao mesmo tempo em que as da Previdência passaram de R\$ 268 bilhões para R\$ 281 bilhões. Queda nos investimentos produtivos aliada a um aumento nos gastos de custeio, como ocorre agora, é uma combinação perversa, e o governo federal precisa se empenhar para evitar sua continuidade.

Entre as razões de a Petrobras investir menos está o fato de o governo ter privilegiado os fornecedores nacionais, nem sempre em condições de cumprir prazos _____ risca e de oferecer os melhores preços. No caso dos aeroportos, a pressão da proximidade da Copa do Mundo levou o poder público a se convencer de suas limitações financeiras, apostando nas _____ como alternativa para a realização das obras necessárias. A queda da capacidade de investir poderá trazer um aspecto favorável, se as barreiras ideológicas forem vencidas: a parceria com a iniciativa privada em setores que precisam se desenvolver e que não são atribuições específicas do governo. _____ avanço, porém, precisa ser associado a uma preocupação permanente com a necessidade de redução nos gastos com custeio.

Adaptado do Jornal Zero Hora - 27 de fevereiro de 2012 - Página 14

11) A alternativa que, de forma adequada, preenche os espaços em branco no texto acima é:

- a) gastos - possuem - a - à - a - concessões - Tal.
- b) dispêndios - tem - a - à - à - concessões - Esse.
- c) gastos - tem - à - a - a - concessões - Este.
- d) dispêndios - têm - à - à - a - concessões - Tal.
- e) dispêndios - têm - a - a - à - concessões - Esse.

12) A opção que melhor sintetiza a tese defendida no texto é:

- a) Queda nos investimentos públicos, incluindo os das estatais, e aumento dos gastos com a folha dos servidores e com a Previdência.
- b) A queda nos investimentos produtivos e o aumento nos gastos com custeio são sinais com os quais o governo precisa se preocupar.
- c) O Brasil demorou a ser afetado e foi um dos primeiros a se livrar das consequências da crise global.
- d) O Brasil apostou nas parcerias com a iniciativa privada, pois as bandeiras ideológicas foram vencidas.
- e) Os gastos com os funcionários públicos e as despesas com a Previdência aumentaram muito em 2011.

13) Em relação ao que está dito explícita e implicitamente no texto, podemos afirmar:

I - Os dados do Tesouro Nacional e do Ministério do Planejamento, que foram divulgados pela revista Veja, evidenciam que os objetivos da Presidente Dilma, pretendidos em seu discurso de posse, foram atingidos.

II - Conforme o editorial, a queda nos investimentos públicos, incluindo os das estatais, tem um impacto positivo na atividade econômica do Brasil.

III - O Brasil se livrou das consequências da crise global porque apostou no mercado interno e reforçou os investimentos.

Está(ão) correta(s) a(s) afirmação(ões):

- a) Somente I e II.
- b) Somente I e III.
- c) Somente II e III.
- d) Somente a II.
- e) Somente a III.

14) Ainda em relação ao texto, podemos fazer as seguintes afirmações:

I - O texto se posiciona favoravelmente em relação às parcerias com a iniciativa privada em setores que precisam se desenvolver e que não são atribuições específicas do governo.

II - O aumento das despesas com a folha dos servidores e com a Previdência é visto positivamente, uma vez que o governo brasileiro conseguiu evitar consequências graves da crise mundial.

III - Ao comparar os anos de 2010 e 2011, percebe-se que neste último houve um incremento nos recursos federais aplicados em infraestrutura e na capacidade produtiva do Brasil.

Está(ão) correta(s) a(s) afirmação(ões):

- a) Somente a I.
- b) Somente a II.
- c) Somente I e III.
- d) Somente II e III.
- e) I, II e III.

15) Marque V (verdadeiro) e F (falso) ao lado das seguintes afirmações relativas ao texto:

- () Os articuladores "tanto ... quanto", na linha 13, introduzem uma ideia de comparação.
 - () A colocação do acento grave indicador de crase no "à" da linha 8 é, neste caso, opcional.
 - () Os pronomes relativos "que", nas linhas 12 e 25, retomam "setores" e "uma situação", respectivamente.
 - () Os dois "se" destacados no texto, nas linhas 23 e 25, possuem a mesma função: introduzir uma ideia de condição.
- a) V - F - F - F.
 - b) V - F - V - F.

- c) V - F - F - V.
- d) F - V - V - V.
- e) F - V - F - V.

16) Marque a opção em que a segunda palavra não poderá ser usada no lugar da primeira, por não ser um sinônimo adequado.

- a) diversa (l. 2) - diferente.
- b) evidente (l. 9) - patente.
- c) redução (l. 14) - diminuição.
- d) razões (l. 20) - motivos.
- e) permanente (l. 27) - inconstante.

17) Assinale a alternativa que completa adequadamente as lacunas das frases a seguir.

I. Os dados _____ o editorial se baseou são os de 2010 e 2011.

II. O setor público, _____ gastos o editorial fez referência, não se preocupou em reduzir despesas com custeio.

III. É preciso entender _____ as despesas com a Previdência aumentaram.

IV. O editorial de Zero Hora, _____ publicação ocorreu em 27 de fevereiro de 2012, tem como título "Sinais Preocupantes".

- a) nos quais - cujos - porque - cuja
- b) que - a cujos - por que - cuja a
- c) em que - a cujos - por que - cuja
- d) nos quais - cujos - por quê - cuja a
- e) em que - cujo os - porque - que a

18) Se na frase abaixo substituíssemos a palavra "investimento" por "investimentos", quantas outras palavras sofreriam alterações? "O investimento público, que tem por objetivo induzir a atividade econômica brasileira, é controlado pelo Ministério do Planejamento".

- a) 2 palavras.
- b) 3 palavras.
- c) 4 palavras.
- d) 5 palavras.
- e) 6 palavras.

19) Desenvolva os tópicos frasais a seguir de forma clara, objetiva, coesa, coerente e adequada ao padrão formal da língua escrita. Cada parágrafo deverá ter entre oito e 12 linhas.

a) Trabalhar na Univates traz uma série de vantagens.

b) Sou uma pessoa que tem qualidades e defeitos.

**GABARITO PROCESSO SELETIVO PARA
FUNCIONÁRIO TÉCNICO-ADMINISTRATIVO
EDITAL 01/2012**

1 - C	Matemática
2 - A	
3 - E	
4 - B	
5 - E	
6 - D	
7 - B	
8 - D	

9 - A	
10 - D	
11 - E	Português
12 - B	
13 - E	
14 - A	
15 - A	
16 - E	
17 - C	
18 - D	
19 - Dissertativa	



CENTRO UNIVERSITÁRIO UNIVATES

PROCESSO SELETIVO PARA FUNCIONÁRIO TÉCNICO-ADMINISTRATIVO EDITAL 03/2013

CADERNO DE QUESTÕES

1. ORGANIZAÇÃO DA PROVA

Esta prova constitui-se de 19 questões, sendo uma dissertativa, valendo 10% da prova, e 18 questões objetivas, valendo 90% da prova.

2. DURAÇÃO DA PROVA

O tempo de duração da prova é de até três horas.

3. INSTRUÇÕES GERAIS

- ✓ É proibido o uso de qualquer material de consulta;
- ✓ Cabe a cada candidato(a) verificar se o Caderno de Questões contém 8 páginas e 19 questões;
- ✓ As questões objetivas contam com cinco alternativas, dentre as quais somente uma deve ser assinalada;
- ✓ As questões dissertativas devem ser respondidas de acordo com o que se solicita em cada uma. Será avaliada a correção linguística de acordo com o padrão culto da língua escrita;
- ✓ Depois de respondidas todas as questões, as respostas devem ser transcritas, com caneta azul ou preta, para a Folha de Respostas, a qual deverá ser solicitada aos fiscais;
- ✓ Verificar se seu nome está grafado corretamente na Folha de Respostas e assiná-la;
- ✓ Verificar se o código e a área que constam na Folha de Resposta da Questão Dissertativa são os informados na Folha de Respostas das Questões Objetivas. Para preservar o anonimato, o nome do(a) candidato(a) não é mencionado na Folha de Resposta da Questão Dissertativa; **portanto, esta não deve ser assinada, apenas rubricada;**
- ✓ No final, a Folha de Respostas deve ser entregue ao fiscal, e o Caderno de Questões poderá ser levado pelo(a) candidato(a).

MATEMÁTICA

1) O salário de Maria correspondia a 75% do salário de Luísa, até que, em dezembro de 2012, Maria recebeu um aumento salarial de 6%, permanecendo inalterado o salário de Luísa. Indicam-se os salários atuais de Maria e Luísa, respectivamente, por M e L. Desse modo, M é igual a:

- a) 59% de L.
- b) 75% de L.
- c) 81% de L.
- d) 79,5% de L.
- e) 120% de L.

2) Dois hotéis, A e B, apresentaram num mês (30 dias) as seguintes ocupações:

Hotel A, com 60 leitos – hospedou 120 pessoas;

Hotel B, com 100 leitos – hospedou 180 pessoas.

Com base nesses dados e considerando que todas as pessoas permaneceram nos hotéis o mesmo número de dias, pode-se afirmar que:

- a) os hotéis apresentam o mesmo grau de ocupação.
- b) o grau de ocupação do hotel A é $\frac{2}{3}$ do grau de ocupação do hotel B.
- c) o grau de ocupação do hotel B é menor do que o grau de ocupação do hotel A.
- d) o grau de ocupação do hotel A é o dobro do grau de ocupação do hotel B.
- e) os hotéis A e B estiveram sempre com ocupação completa.

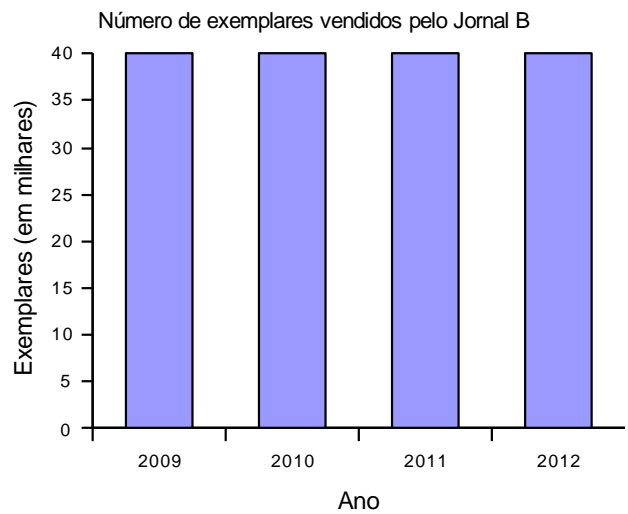
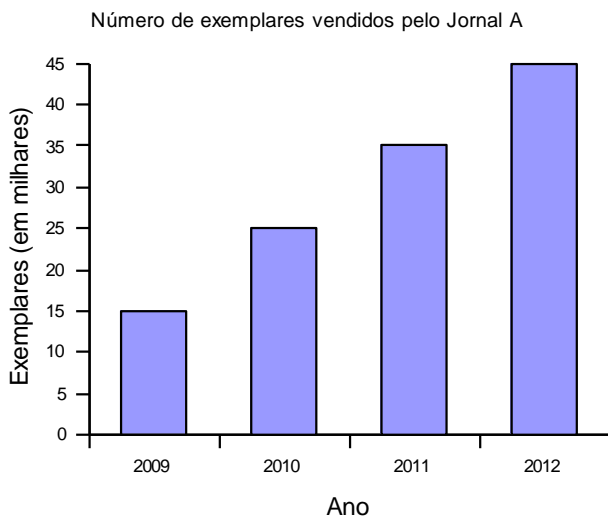
3) Em uma Instituição de Ensino foi realizada uma pesquisa em relação à satisfação dos serviços prestados pelo Setor de Atendimento ao Aluno. Foram consultados 600 alunos e cada um deu uma nota de 1 a 10 (1, 2, 3, 4, 5, 6, 7, 8, 9 ou 10) para os serviços prestados. A média final das notas foi 8,5. O número mínimo de alunos que devem ser consultados, além dos que já foram, para que a média passe para 9 é igual a:

- a) 250.
- b) 300.
- c) 350.
- d) 400.
- e) 450.

4) Antônio, Bento, Ciro e Dorival são profissionais liberais. Um deles é advogado, outro é paisagista, outro é veterinário e o outro é professor. Sabe-se que: o veterinário não é Antônio nem Ciro; Bento não é veterinário nem paisagista; Ciro não é advogado nem paisagista. A conclusão correta quanto à correspondência entre carreira e profissional está indicada em:

- a) advogado – Dorival
- b) paisagista – Bento
- c) paisagista – Antônio
- d) professor – Dorival
- e) professor – Antônio

5) Uma cidade possui dois jornais, A e B, que circulam diariamente. Nos gráficos a seguir, temos, em milhares de exemplares, o número de jornais vendidos durante os anos de 2009 a 2012.



A partir desses gráficos são feitas as seguintes afirmações:

I – A circulação do jornal A cresceu 10% a cada ano.

II – Ao longo desses anos, o jornal A vendeu mais exemplares.

III – Supondo que permaneça o mesmo padrão de venda dos dois jornais, por ano, então em 2014 os totais de jornais vendidos dos tipos A e B serão iguais.

Pode-se afirmar que está correto o contido em:

- apenas.
- apenas.
- apenas.
- I e II, apenas.
- I e III, apenas.

6) Uma pesquisa mostrou que, de um total de 180 funcionários de uma Instituição de Ensino, 75% são professores. Destes, 80% atuam no turno da noite. Escolhendo-se, ao acaso, um desses funcionários, qual a probabilidade de que ele seja professor e não atue no turno da noite?

- 15%.
- 20%.
- 25%.
- 60%.
- 80%.

7) Cem pessoas responderam um questionário formado por três perguntas. Cada pergunta devia ser respondida por sim ou não, sendo correta apenas uma das respostas. Sabendo que:

- * 8 pessoas responderam corretamente todas as três perguntas;
- * 9 pessoas responderam corretamente somente a primeira e a segunda;
- * 11 pessoas responderam corretamente somente a primeira e a terceira;
- * 6 pessoas responderam corretamente somente a segunda e a terceira;
- * 55 pessoas responderam corretamente a primeira pergunta;
- * 32 pessoas responderam corretamente a segunda pergunta;
- * 49 pessoas responderam corretamente a terceira pergunta.

Então, o número de pessoas que não responderam corretamente a pergunta alguma é

- 0.
- 6.
- 8.
- 16.
- 26.

8) Suponha que, em volta de uma mesa redonda, estejam homens e mulheres, da seguinte maneira:

- * 7 mulheres têm uma mulher à sua direita;
- * 12 mulheres têm um homem à sua direita;
- * $\frac{3}{4}$ dos homens têm uma mulher à sua direita.

Quantos lugares tem a mesa?

- a) 12.
- b) 16.
- c) 19.
- d) 35.
- e) 36.

9) Na compra de uma quantidade de um certo livro para vender em sua livraria, um comerciante conseguiu um desconto de 25% sobre o valor a ser pago. Considere que:

- I – Se não tivesse recebido o desconto, o comerciante teria pago R\$ 20,00 por livro.
- II – Ao vender os livros em sua livraria, ele pretende dar ao cliente um desconto de 28% sobre o valor marcado na etiqueta e, ainda assim, obter um lucro igual a 80% do preço de custo do livro.

Nessas condições, qual o preço que deverá estar marcado na etiqueta?

- a) R\$ 25,90.
- b) R\$ 32,40.
- c) R\$ 34,50.
- d) R\$ 37,50.
- e) R\$ 46,40.

10) Um grupo de funcionários de uma Instituição de Ensino resolveu visitar um Parque Histórico. Para tanto, contratou uma agência de turismo, que promove excursões para este Parque. A agência informou que, se 40 pessoas forem visitar o Parque, o valor cobrado será de R\$ 50,00 por pessoa por um passeio de 4 horas. Entretanto, a Agência estimou que poderá haver uma redução de R\$ 5,00 por pessoa a cada aumento de 10 pessoas no total de participantes do passeio. Com base nessas informações, pode-se estimar que o preço por pessoa para que essa Agência obtenha a receita máxima com um desses passeios é:

- a) R\$ 30,00.
- b) R\$ 35,00.
- c) R\$ 40,00.
- d) R\$ 45,00.
- e) R\$ 50,00.

As lições do boato

Causou sobressalto e correria _____ agências bancárias em pelo menos 12 Estados o boato que circulou pela internet sobre a _____ do programa Bolsa Família. Foi tão preocupante a movimentação, que o Ministério do Desenvolvimento Social e a Caixa Econômica Federal _____ em desmentir a informação por meio de notas oficiais. A falsa notícia se disseminou entre pessoas que, pela condição social, são mais vulneráveis a manipulações como essa. Apesar das dificuldades que deverá encontrar para chegar aos autores do boato, a Polícia Federal é desafiada a apontar quem e com que objetivo espalhou um alarme que tumultuou a vida de famílias, de policiais e de servidores da Caixa e que poderia ter graves consequências.

Deve-se compreender, no contexto do Bolsa Família, como uma notícia sem autoria provoca uma correria de beneficiários, até porque também foi espalhada outra informação, de que os cadastrados receberiam um abono pelo Dia das Mães. O programa é, na sua essência, uma ajuda gerida pelas mulheres. São 13,8 milhões de famílias que se beneficiam com um auxílio mensal criado para dar suporte _____ quem vive na extrema pobreza.

Até agora, em 10 anos de funcionamento, a serem completados em 2013, cumpriu com uma parte de suas obrigações, socorrendo quem, em muitos casos, não dispõe de nenhuma estrutura do Estado. Assim, o programa não existiria necessariamente para salvar adultos, mas para garantir sobrevivência a crianças e adolescentes, até o estágio _____ tenham as condições mínimas para tentar construir histórias diferentes das vividas pelos pais.

Mas a efetividade do programa é parcial. Estudos recentes apontam deficiências no cumprimento de uma das metas do Bolsa Família, que é a de assegurar a frequência escolar. O governo deve aprimorar mecanismos de controle nessa área, para que o desembolso mensal cobre, como está previsto, a contrapartida de que os filhos dos cadastrados tenham _____ na escola. Também merece avaliação crítica a dependência que a ajuda provoca entre famílias que poderiam buscar qualificação e autonomia financeira. Os gestores falham se, ao invés de estimular mudanças e oferecer condições para tal, inspirarem a resignação, que acaba por punir quem deveria ser protegido por um esforço governamental, mas bancado por toda a sociedade.

Assim como não se pode prestar a boatos irresponsáveis, o Bolsa Família não deve ser instrumento de manobras políticas e eleitoreiras. A grande missão do programa é, além de transferir renda que represente um auxílio temporário, assegurar acesso a direitos elementares, em especial _____ educação dos jovens. Os beneficiários precisam, portanto, estar imunes _____ falsas informações e _____ manifestações que procuram tirar proveito de um plano imperfeito, mas com ampla função social.

Editorial de Zero Hora, 21/05/2013

11) A alternativa que, de forma adequada, preenche os espaços em branco no texto acima é:

- a) às – extinção – apressaram-se – a – em que – assiduidade – à – às – às
- b) as – extinção – apreçaram-se – à – que – acuidade – a – às – às
- c) às – estinção – apressaram-se – à – no qual - ascuidade – à – as – as
- d) as – extinsão – apressaram-se – a – que – assiduidade – à – às – às
- e) às – extinção – apressaram-se – a – em que – assiduidade – a – às – as

12) A opção que melhor sintetiza a tese defendida no texto é:

- a) O programa Bolsa Família não tem atendido a sua função primordial pois há notícias de que muitos jovens não frequentam a escola.
- b) O Bolsa Família não deve ser pago a quem não garante a frequência dos filhos na escola, já que uma de suas metas é garantir essa frequência escolar para que tenham condições de mudar a história de suas vidas.
- c) O governo precisa entender que o Bolsa Família deve constituir um auxílio temporário, portanto está na hora de extinguir o programa.
- d) Como a missão do Bolsa Família é transferir renda que representa um auxílio temporário, além de assegurar o acesso à educação dos jovens, seus beneficiários devem estar imunes a falsas informações e manipulações interesseiras.
- e) As pessoas precisam ficar atentas aos boatos que circulam pela internet e não acreditar em tudo que é divulgado.

13) Marque a opção que apresenta os sinônimos mais adequados das seguintes palavras no texto: vulneráveis (linha 5), deficiências (linha 18), elementares (linha 27):

- a) ofendidas – insuficiências – primários
- b) melindradas – falhas – essenciais
- c) sujeitas – falhas – fundamentais
- d) ofendidas – imperfeições – simples
- e) sujeitas – carências - rudimentares

14) Marque V (verdadeiro) e F (falso) ao lado das seguintes afirmações relativas ao texto:

- () Se suprimíssemos o vocábulo “até”, na linha 9, não haveria alteração no sentido da informação, mas ela perderia em força argumentativa.
- () A retirada do acento gráfico nas palavras “famílias, agências e polícia” ocasionaria o surgimento de outras palavras da língua portuguesa.
- () Se retirássemos o ponto final entre as duas frases que iniciam o 4º parágrafo, poderíamos usar uma vírgula e introduzir o articulador “pois”, que deixaria explícita a relação entre as duas ideias expressas pelas frases.
- () O vocábulo “para” usado nas linhas 11 e 15 possui o mesmo significado.
- () Os pronomes relativos “que”, nas linhas 7 e 19, retomam, respectivamente, “boato” e “uma das metas”.
- () O vocábulo “até”, nas linhas 9 e 16, possui o mesmo significado.
- () O articulador “portanto”, na linha 28, introduz uma ideia de conclusão e poderia ser substituído, sem alteração do sentido, por “pois”.

A ordem correta de preenchimento, de cima para baixo, é:

- a) F – F – V – F – F – V – V
- b) V – F – V – F – F – F – F
- c) V – V – F – V – V – V – F
- d) F – F – V – V – V – F – V
- e) V – F – V – V – F – F – V

15) Se na frase abaixo substituíssemos a palavra “programa” por “programas”, quantas outras palavras sofreriam alterações?

“O programa, que tem por objetivo garantir a sobrevivência das crianças e adolescentes, é controlado pelo governo federal”.

- a) Uma palavra.
- b) Duas palavras.
- c) Três palavras.
- d) Quatro palavras.
- e) Cinco palavras.

16) Em relação ao que está dito explícita e implicitamente no texto, podemos afirmar:

I – Foi somente em doze estados que as pessoas correram às agências bancárias em função do boato de que o Bolsa Família seria extinto.

II – A informação de que as pessoas receberiam um abono pelo Dia das Mães contribuiu para aumentar a correria às agências bancárias.

III – Segundo o autor, graças ao Bolsa Família, as crianças e os adolescentes contemplados pelo programa terão condições de construir uma história diferente da de seus pais.

IV – Nem todas as famílias beneficiadas com o Bolsa Família cumprem sua obrigação de enviar os filhos à escola.

V – De acordo com o texto, pessoas de classes menos favorecidas podem ser enganadas mais facilmente, sendo potenciais vítimas de boatos.

Estão corretas as afirmações:

- a) Somente I, II, IV e V.
- b) Somente II, IV e V.
- c) Somente II, III e IV.
- d) Somente II, III, IV e V.
- e) Todas estão corretas.

17) A alternativa em que o enunciado está expresso com clareza, objetividade e precisão, de acordo com o padrão formal da língua escrita é:

a) Tem muita gente que adora espalhar boatos que atrapalham a vida de muitas pessoas, embora nem sempre percebem o problema que causam.

b) Há algumas semanas atrás, onde muitos já esqueceram, foi espalhado o boato de que o Bolsa Família seria eliminado dos programas governamentais.

c) O Bolsa Família, cuja a função primordial é garantir melhores condições a crianças e adolescentes de que vivem na miséria, não tem garantido a frequência escolar das crianças.

d) Com certeza, sempre houveram divergências em relação ao Bolsa Família, mas não podemos se recusar a perceber que o programa cumpre uma função social relevante..

e) O programa bolsa Família, a que o texto faz referência, tem cumprido sua função de garantir a crianças e adolescentes que vivem na miséria condições de vida mais dignas.

18) Assinale a opção em que a inversão da ordem dos termos sublinhados altera o sentido fundamental do enunciado:

a) O programa deve dar suporte a quem vive na extrema pobreza. O programa deve dar suporte a quem vive na pobreza extrema.

b) Muitos pais não têm as condições mínimas para sustentar os filhos. Muitos pais não têm as mínimas condições para sustentar os filhos.

c) Para muitas famílias, o programa Bolsa Família representa a única oportunidade de livrar-se da miséria. Para muitas famílias, o programa Bolsa Família representa uma oportunidade única de livrar-se da miséria.

d) As crianças devem aprender a construir histórias diferentes. As crianças devem aprender a construir diferentes histórias.

e) O Bolsa Família não pode se prestar a boatos irresponsáveis. O Bolsa Família não pode se prestar a irresponsáveis boatos.

19) Desenvolva o tópico frasal a seguir de forma clara, objetiva, coesa, coerente e adequada ao padrão formal da língua escrita. No espaço, explicita a característica que o distingue para conseguir esse emprego. O parágrafo deverá ter entre oito e 12 linhas.

a) Como sou uma pessoa extremamente _____, tenho muito a contribuir com meu trabalho na Univates.

5 _____

10 _____

15 _____

b) Redija um e-mail claro, coeso e coerente, para ser enviado aos alunos da Univates, com as seguintes informações:

- os trabalhos de construção da biblioteca da Univates exigem algumas implosões;
- essas implosões vão ocorrer na terça, dia 16 de julho, no período da manhã;
- essas implosões podem danificar veículos no estacionamento do Prédio 12;
- na terça, dia 16 de julho, no período da manhã, os alunos não poderão utilizar o estacionamento do Prédio 12;
- os alunos devem deixar seus veículos nos estacionamentos dos prédios 7 e 9, no dia 16 de julho, no período da manhã, para evitar que seus carros sejam danificados.

5 _____

10 _____

15 _____

GABARITO

1 - D	Matemática
2 - C	
3 - B	
4 - C	
5 - C	
6 - A	
7 - B	
8 - D	
9 - D	
10 - B	
11 - A	Português
12 - D	
13 - C	
14 - E	
15 - D	
16 - B	
17 - E	
18 - C	
19 - Dissertativa	